

復習シート 第4学年 算数



組		番 号		名 前	
---	--	--------	--	--------	--

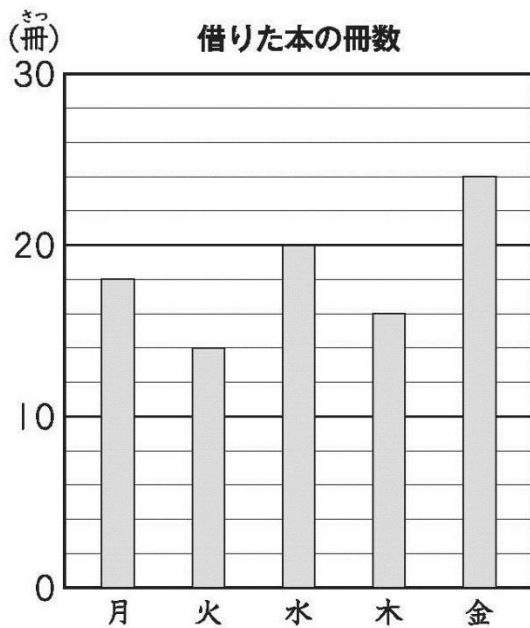
（「数量関係」を問う問題）

1 次の問題を読み、問いに答えなさい。 **レベル4・5**

（H25 全国学力・学習状況調査A〔9〕）

下の棒グラフは、ある学級の児童が、1週間に借りた本の冊数を調べたものです。

いちばん多く本を借りたのは何曜日ですか。また、その曜日に何冊借りていますか。それぞれ答えを書きましょう。



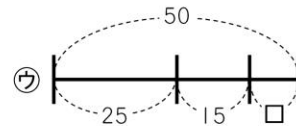
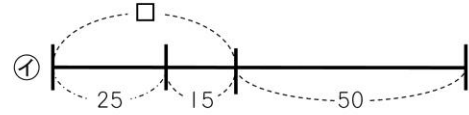
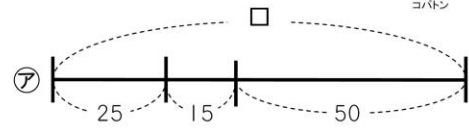
答え 曜日

答え 冊



2 次の問題を読み、問いに答えなさい。 **レベル4・5**
 (H27 埼玉県学力・学習状況調査)

10 こういちさんは、折り紙を25まい持っていました。
 なおみさんから15まい、はるきさんから何まいももらったので、
 全部で50まいになりました。
 はるきさんからもらったまい数を□まいとして、こういちさんの
 持っている折り紙のまい数を図であらわしたものを、
 次の㉠から㉣の中から1つえらびましょう。



答え



問題は以上です。答え合わせをしましょう。

復習シート 第4学年 算数



組		番 号		名 前
---	--	--------	--	--------

模範解答

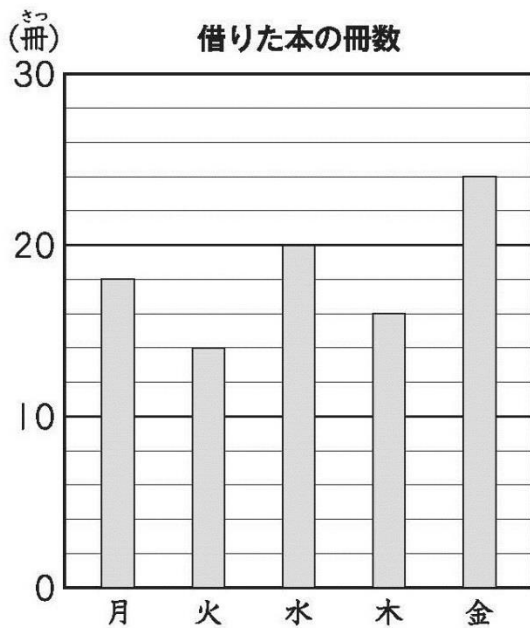
（「数量関係」を問う問題）

- 1 次の問題を読み、問いに答えなさい。 **レベル4・5**

（H25 全国学力・学習状況調査A〔9〕）

下の棒グラフは、ある学級の児童が、1週間に借りた本の冊数を調べたものです。

いちばん多く本を借りたのは何曜日ですか。また、その曜日に何冊借りていますか。それぞれ答えを書きましょう。



答え

金 曜日

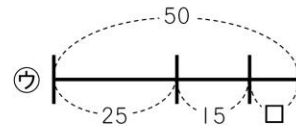
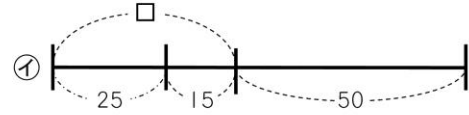
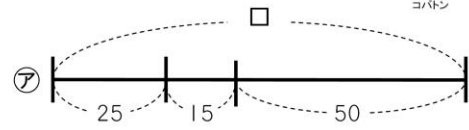
答え

24 冊



2 次の問題を読み、問いに答えなさい。 **レベル4・5**
 (H27 埼玉県学力・学習状況調査)

10 こういちさんは、折り紙を25まい持っていました。
 なおみさんから15まい、はるきさんから何まいもらったので、
 全部で50まいになりました。
 はるきさんからもらったまい数を□まいとして、こういちさんの
 持っている折り紙のまい数を図であらわしたものを、
 次の㉠から㉣の中から1つえらびましょう。



答え

㉢



問題は以上です。答え合わせをしましょう。